

اسئلة اختبار مادة: الحاسب وتقنية المعلومات مقررات 2 الفصل الدراسي (الأول) العام الدراسي 1443هـ

15

مستعينة بالله تعالى اجيبي عن مايلي :

السؤال الاول: اختاري الإجابة الصحيحة لكل سؤال في مايلي :

9

1.	الشبكة التي تستخدم لربط عدة فروع لشركة داخل مدينة هي شبكة	أ- شخصية	ب- محلية	ج- مدنية	د- موسعة
2.	منع الوصول للمعلومات الا من الأشخاص المصرح لهم بالوصول :	أ- السلامة	ب- السرية	ج- التوافر	د- التشفير
3.	يتميز نظام التشغيل اندرويد بكونه نظاما ::	أ- مستقرا وامنا	ب- قابل لتعديل	ج- مفتوح المصدر	د- جميع ماسبق
4.	نتاج تنفيذ العملية الحسابية التالية $M=2^6+3^2$ هو :	أ- 21	ب- 7.5	ج- 9	د- 22
5.	من أنواع الاستعلام في قواعد البيانات:	أ- الانشاء	ب- التصميم	ج- البرمجة	د- التحرير
6.	من اهم الوحدات الوظيفية في اللوحة الحاضنة :	أ- قاعدة المعالج	ب- المسجلات	ج- الذاكرة	د- نظام التشغيل
7.	يعد موقع نور من الأمثلة على خدمات :	أ- التجارة الالكترونية	ب- الحكومة الالكترونية	ج- الجامعات الالكترونية	د- التسوق الالكتروني
8.	تسمى وظائف من يقومون باعداد الوثائق والصحف والمؤلفات باستخدام الانترنت:	أ- الناشر الالكتروني	ب- المصمم بالحاسب	ج- مسؤول امن المعلومات	د- مسؤول قاعدة بيانات
9.	الفيروسات التي تنسخ نفسها وتنتشر سريعا :	أ- الديدان	ب- حصان طروادة	ج- الفيروس	د- الدودة

تابع الأسئلة

4


**السؤال الثاني : ضع علامة (✓) أمام العبارة الصحيحة و علامة (✗) أمام العبارة الخاطئة :**

العبارة	العلامة
1. تعتبر تقنية تبديل الدوائر احد تقنيات التبديل الشبكي	
2. تقوم التقارير بعرض البيانات على الشاشة فقط	
3. التجسس هو نوع من الاختراق	
4. المفتاح الأساسي هي قيمة يمكن تكرارها في الجدول	

2

**السؤال الثالث : اجبى ما بين الأقواس التالية :**

1. ( اذكرى نوع العلاقة بين الجداول حسب الشكل الذي امامك )



:

2. B2B ( نوع التعاملات )

اسم المعلمة:

حنان المالكي

انتهت الأسئلة

تمنيتي لكن بالتوفيق

اسئلة اختبار مادة: الحاسب وتقنية المعلومات مقررات 2 الفصل الدراسي (الأول) العام الدراسي 1443هـ

15

مستعينة بالله تعالى اجيبي عن مايلي :

السؤال الاول: اختاري الإجابة الصحيحة لكل سؤال في مايلي :

8

1.	الشبكة التي تستخدم في معمل الحاسب هي شبكة	أ- شخصية	ب- محلية	ج- مدنية	د- موسعة
2.	الفيروسات التي تنسخ نفسها وتنتشر سريعا :	أ- الديدان	ب- حسان طروادة	ج- الفيروس	د- الدودة
3.	يتميز نظام التشغيل ابل (IOS) بكونه نظاما ::	أ- مستقرا واما	ب- قابل لتعديل	ج- مفتوح المصدر	د- جميع ماسبق
4.	نتاج تنفيذ العملية الحسابية التالية $M=2*6+3^2$ هو :	أ- 21	ب- 7.5	ج- 9	د- 22
5.	أي من التالي لا يعد من أنظمة قواعد البيانات:	أ- اكسس	ب- اوراكل	ج- اكسل	د- ليبر اوفيس
6.	من مكونات المعالج :	أ- وحدة الحساب والمنطق	ب- وحدة المسجلات	ج- وحدة التحكم	د- جميع ماذكر
7.	من المميزات التي قدمتها التجارة الالكترونية :	أ- تقليل الفرص الوظيفية	ب- خفض التكاليف	ج- فقد التواصل بين الطرفين	د- زيادة الإجراءات الاقتصادية
8.	المسؤول عن دراسة النظام واحتياجات المستخدم والتخطيط:	أ- المبرمج	ب- محلل ومصمم نظم	ج- مسؤول امن المعلومات	د- مسؤول قاعدة بيانات

تابع الأسئلة

**السؤال الثاني : ضع علامة (✓) أمام العبارة الصحيحة و علامة (✗) أمام العبارة الخاطئة :**

5

العبارة	العلامة
1. قرص الاشعة الزرقاء يتفوق على قرص الفيديو الرقمي في سعة التخزين	
2. تعتبر تقنية تبديل الدوائر احد تقنيات التبديل الشبكي	
3. تقوم التقارير بعرض البيانات على الشاشة فقط	
4. التجسس هو نوع من الاختراق	
5. المفتاح الأساسي هي قيمة يمكن تكرارها في الجدول	

**السؤال الثالث : اجبني ما بين الاقواس التالية :**

2

1. (اذكري نوع العلاقة بين الجداول حسب الشكل الذي امامك )



:

2. B2B ( نوع التعاملات)

اسم المعلمة:

انتهت الأسئلة

تمنياتي لكن بالتوفيق

اسئلة اختبار مادة: الحاسب وتقنية المعلومات مقررات 2 الفصل الدراسي (الأول) العام الدراسي 1443هـ

15

مستعينة بالله تعالى اجيبي عن مايلي :

السؤال الاول: اختاري الإجابة الصحيحة لكل سؤال في مايلي :

8

1.	الشبكة التي تستخدم لربط عدة فروع لشركة في انحاء العالم هي شبكة	أ- شخصية	ب- محلية	ج- مدنية	د- موسعة
2.	صحة المعلومة عند إدخالها ونقلها يقصد به :	أ- السلامة	ب- السرية	ج- التوافر	د- التشفير
3.	يتميز نظام التشغيل ويندوز فون بانه من انتاج شركة ::	أ- ابل	ب- جوجل	ج- لينكس	د- مايكروسوفت
4.	نتاج تنفيذ العملية الحسابية التالية $M=2^6+3^2$ هو :	أ- 21	ب- 7.5	ج- 9	د- 22
5.	من أنواع الاستعلام في قواعد البيانات:	أ- الحذف	ب- التصميم	ج- البرمجة	د- التحرير
6.	من أنواع الأقراص الضوئية :	أ- القرص المضغوط	ب- القرص الصلب	ج- القرص المرن	د- القرص البلاستيكي
7.	في الحكومة الالكترونية يرمز للتعاملات بين الجهات الحكومية والمواطن بالرمز:	أ- G2C	ب- G2B	ج- G2G	د- B2G
8.	يدرس طلاب تخصص هندسة الحاسب مواد من تخصص الحاسب وأخرى من تخصص:	أ- الهندسة المدنية	ب- الهندسة الكيميائية	ج- الهندسة الصناعية	د- الهندسة الكهربائية

تابع الأسئلة

5


**السؤال الثاني : ضع علامة (✓) أمام العبارة الصحيحة و علامة (x) أمام العبارة الخاطئة :**

العبارة	العلامة
1. تمثل البيانات الأساس للمعلومات	
2. جميع مهن الحاسب يشتغلها متخصصون بالحاسب	
3. تقوم التقارير بعرض البيانات على الشاشة فقط	
4. التجسس هو نوع من الاختراق	
5. المفتاح الأساسي هي قيمة يمكن تكرارها في الجدول	

2

**السؤال الثالث : اجبني ما بين الأقواس التالية :**

1. (اذكري نوع العلاقة بين الجداول حسب الشكل الذي امامك )



:

2. B2B ( نوع التعاملات)

اسم المعلمة:

حنان المالكي

انتهت الأسئلة

تمنياتي لكن بالتوفيق



اختبار لمادة (حاسب 2) لعام 1443 هـ الفصل الدراسي ( الاول ) الدور ( الاول )

السؤال الأول :

( ا ) اكتب المصطلح :

- 1/ ..... هي الأشكال التي تمثل بها الحقائق والمعارف والحروف والصور وغيرها يتم معالجتها يدويا او حاسوبيا للحصول على معنى
- 2/ ..... مجموعة من الحاسبات التي تتوزع على موقع مختلفة وتربط بينها وسائل الاتصال المختلفة ، وتقوم بجمع وتبادل البيانات الرقمية والاشترك في المصادر
- 3/ ..... عمليات البيع و الشراء باستخدام تقنية المعلومات والاتصالات
- 4/ ..... هي البيانات التي تتم معالجتها وتحويلها الى صورة قابلة للفهم
- 5/ ..... وثيقة إلكترونية تمنح من قبل هيئات عالمية
- 7/ ..... الأجهزة التي تعمل بواسطة نظام التشغيل يسمح لها بالاتصال بخدمة الانترنت وتصفح مواقع الانترنت والبريد الإلكتروني ومواقع التواصل الاجتماعي

( ب ) عددي مايلي :

1- مميزات الهواتف الذكية :

-1

-2

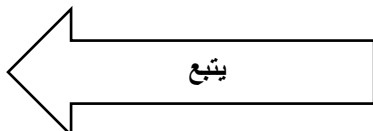
-3

2- خدمات التجارة الالكترونية :

-1

-2

-3



السؤال الثاني :

اختاري مايلي :

1- الشبكة التي تستخدم في مبنى أو مجموعة مبان هي :		
ا- المحلية	ب - الموسعة	ج - المدنية
2 - يسمى نظام التشفير الذي يستخدم مفتاح واحد للتشفير و فك التشفير :		
ا- التشفير المتماثل	ب - التشفير العام	ج- التشفير الخاص
3- شراء عبر الفيس بوك يعد من أنماط التسوق عبر :		
ا- القوائم البريدية	ب- الشبكات الاجتماعية	ج- مواقع الشركات
4- في الحكومة الإلكترونية يرمز للتعاملات بين الجهات الحكومية و المواطن بالرمز :		
ا - G2C	ب_ G2B	ج - G2G
5 - يتكون السجل من :		
ا) مجموعة حروف	ب- مجموعة ملفات	ج- مجموعة حقول
6- الجهة الرائدة في منح شهادات عالمية متعددة حول شبكات الحاسب هي :		
ا- كومباتيا	ب- سيسكو	ج- مايكروسوفت

ب- ضعي علامة ( √ ) امام العبارة الصحيحة او ( x ) امام العبارة الخاطئة ؟

- 1- تقوم التقارير بعرض البيانات على الشاشة فقط ( )
- 2- التجسس هو نوع الاختراق ( )
- 3- تمثل البيانات الأساس للمعلومات ( )
- 4- المفتاح الأساسي هي قيمة يمكن تكرارها في الجدول ( )
- 5- ( Form Factor ) هو المعيار القياسي لمقاسات اللوحة الحاضنة ( )
- 6- جميع مهن الحاسب يشتغلها متخصصون بالحاسب ( )

ج- اختاري للعمود الأول ما يناسبه من العمود الثاني :

م	العمود الأول	العمود الثاني
1	RISC	يهتم بإنتاج وصيانة أنظمة وبرامج متقدمة ذات قدرات عالية ومعقدة
2	هندسة البرمجيات	ذاكرة مخصصة للوحات الحاضنة الحديثة في الحاسبات المكتبية
3	هندسة الحاسب	فئة المعالجات في الهواتف الذكية
4	DIMM	يجمع بين تخصص الهندسة الكهربائية و تخصص الحاسب

\*\*\* انتهت الأسئلة \*\*\*

إذا كنت تستطيع تخيل صورة ما، يمكنك أن تجعلها واقعاً، وإذا كنت تستطيع أن تحلم يمكنك تحقيق حلمك

معلمة المادة :